

AMRIT INDO CANADIAN ACADEMY

Assignment

CLASS-III

Subject: English

MM: 50

A1. Complete the words given below by filling up the blank spaces: (4m)

1. G _ a _ t
2. S _ r p _ i s e
3. B _ m b o _
4. C _ p t i _ e

A2. Match the words with their correct meaning: (2m)

- | | |
|----------------|----------------------------------|
| 1. Bamboo | kept in zoo |
| 2. Nourishment | many types of one thing |
| 3. Captive | food that keeps one healthy |
| 4. Variety | a tall plant of the grass family |

A3. Answer the following questions: (4m)

1. Where giant pandas are usually found?
2. Why do giant pandas eat for many hours each day?

A4. Underline the nouns in the following sentences: (2m)

1. The cow eats grass.
2. The butterfly flies onto a flower.

A5. Write the collective noun for the following: (2m)

1. A _____ of students.
2. A _____ of fish.

A6. Circle the proper noun and underline the common noun in the following sentences: (2m)

1. Allahabad is a city famous for its three rivers.
2. Rabindranath Tagore is a famous poet who is known for his book 'Gitanjali'.

SECTION B (UNDERSTANDING) 12M

B1. Read the passage given below and answer the following questions: (5m)

Birds always attract children. They are of different types, colours and natures. We have the smallest bird- the humming bird and the biggest one- Ostrich. Our national bird peacock is also a large, beautiful bird. Birds are of various colours as sparrows are grey, white and black; parrots-light green, dappled; pigeons-light grey, white etc. Pigeons, sparrows, parrots etc. are of quiet nature. Hawk, eagle, kite, vulture, crow etc. are predators.

1. What do birds always do?

2. Which is the smallest bird?

3. Which is the largest bird?

4. Which bird is our national bird?

5. Name some predator birds.

B2. Why are the lives of pandas in danger? Explain. (3m)

Ans.

B3. Fill in the blanks in context to chapter 1 of your textbooks: (4m)

1. The two types of pandas are _____ and _____.
2. The red pandas are found in the forests of _____ and _____.
3. Pandas usually eat _____ and _____.
4. Male giant pandas grow up to _____ in height and weigh more than _____.

SECTION C (ANALYSE) 12M

C1. Analyse and find the odd one out. Also give the reason for your answer: (3m)

1.



Ans. _____.

2.



Ans. _____.

C2. Write a letter to the famous revolutionary leader Bhagat Singh using the hints given below. Explain why are you writing this letter, what inspires you about him and how you want to keep his teachings alive?

Also, make a poster on Bhagat Singh or any incident related to him. 9M= 6M+3M

NOTE: The format for writing the letter will be provided as a link in the comment section on Amrit Indo Canadian Academy's official you tube channel.

_____ April _____

Dear _____

The reason I am writing is because I wanted to _____

Contribution _____ independence. You always opposed _____.

I was surprised _____ went to jail many times. You were great _____ and a

_____ hero. You _____ youth to _____ government.

I can never forget _____ for the independence
of _____. You will _____
Inspiration for _____ of India.

Yours Lovingly

SECTION D (APPLICATION) 6M

D1. Choose the correct words to complete these sentences: 4M

- 1.) Wild pandas live in (fat/thick) bamboo forests.
- 2.) The forest has big and (little/small) animals.
- 3.) Captive pandas have a (wider/broader) variety of food.
- 4.) It is (big/great) fun to learn more about different animals.

D2. Make sentence using the words given below: 2M

- 1.) Nourishment
- 2.) Favourite

SECTION E (CREATE) 4M

E1. Describe the picture given below in your own words:



Layout of Personal Letter

55 Patel Villa
Delhi-110001

— Address of the Sender

15 February, 20XX

— Date

Dear + Name

— Salutation

BODY OF THE LETTER

Yours affectionately

— Subscription

Rani

— Signature

129, Navyug Apartments

Pitampura, Delhi-110034

March 01, 2019

Dear Rudra

It's been a while since I've heard from you. Where have you been? I hope this letter finds you in the best of your health.

As summers are approaching, I was thinking if we could spend the summer break together at my place in Mumbai. I will introduce you to all my friends and close relatives. I will give you a city tour as well. We will spend some quality time in the afternoons near the sea shore. To add cherry on the cake, the weather here is very pleasant during those days due to sea winds.

I am excited even at the thought of you and I spending the summer together after so long. I have to tell you a lot of things and expect the same from you. Give my regards to aunty and uncle!

Hope to see you soon.

Yours lovingly

Sakshi/Saksham

By: Ms.Sujata

Contact no.: 9465045671

Call timings: 4:00 pm – 6:00 pm

Section -A (Knowledge)

(16M)

A1. Each question carry 1 mark.

1. Write the numeral for the given number.

Three thousand eight hundred and fifty-six.

2. Write the number comes just before and after.

_____ 6,790 _____

3. Write the face value of the underline digits.

5, 1 4 9

4. Put < , > or = sign in box.

(a) 5,019 1,059

(b) 2,879 2,976

5. Fill in the blanks.

(a) $5,666 + \underline{\hspace{2cm}} = 543 + 5,666$

(b) $2,879 + 100 = \underline{\hspace{2cm}}$

6. Circle the greater number in each pair.

(a) 2,945 , 2,495

(b) 3,674 , 5,002

7. Guess the addends and fill in the blanks .

(a) $1200 + \underline{\hspace{2cm}} = 1600$

(b) $\underline{\hspace{2cm}} + 500 = 800$

8. Add the number horizontally and write the answer.

$748 + 329 = \underline{\hspace{2cm}}$

A2. Each question carry 2 marks.

1. Write the place value of the each digit in number 8402.

2. Find the sum of 5862 and 3674.

3. Form the greatest and the smallest 4-digit number with the given digits.

6, 3, 0, 5

4. Arrange the numbers in descending order .

3465 , 4365 , 3795 , 4653

Section -B (Understanding)

(12M)

B1. Each question carry 2 marks .

1. Circle the odd numbers and underline the even number.

2487 , 4632 , 1030 , 7989

2. Find the sum and check the sum is more or less than 1000.

876+ 354

3. Write in short form . $8 \times 1000 + 7 \times 10 + 9 \times 1$

4. Write the Roman numerals for the following numbers.

(a) 4 (b) 9 (c) 16 (d) 18

5. Find the sum of 4-digit smallest number and 3 digit greatest number .

6. Counting by threes, write the numbers that comes in between 8952 and 8964.

Section – C (Application)

(6M)

C1. Each question carry 3 marks.

1. Complete the number sequence .

(a) 9496 , 9497 , 9498 , _____, _____, _____

(b) _____, _____, 8550 , 8551 , _____

2. Write the Roman numerals in blanks .

(a) There are _____ months in a year

(b) You have _____ fingers on both hands.

(c) The sum of seven and eight is _____.

Section -D (Analyse)

(12M)

D. Each question carry 4 marks.

1. Mahika and Shareya are sisters . They both have different money banks and have a habit of saving some money from their pocket money every months. If Mahika saved Rs. 4890 and Shreya saved Rs. 5856 till now, find out the money saved by them altogether.

2. A zoo had 2345 animals in all . In a specific month, 568 migratory birds made nest in the zoo. The zookeepers are wondering how many animals are there in the zoo now. Can you tell them?

3. Sunita has collected 5230 stamps in all. Find whether the predecessor and successor is an even or an odd number. Write the expanded form of 5230 also.

Section – E (Create)

(4M)

E1. Each question carry 2 marks.

1. Deepak's admission number is four thousand nine hundred and seventy nine . While Arun's admission number is the predecessor of this number. Write Arun and Deepak admission numbers in figures.
2. Mahesh is working on his project. He is making a number train having 4 coaches with consecutive even numbers written on them. If he starts with the numbers 4598, find out the numbers on all the 4 coaches.

Section A (Knowledge)**Q1. Fill in the blanks.****(Oxygen, Animals, Trunk, Shrubs, Birds)**

1. The thick, brown and woody stem of tree is called _____.
2. We see many kind of _____ around us.
3. We breath in _____ from the air.
4. Animals that have wings and feathers are called _____.
5. Small and bushy plants are called _____.

Q2. Write Yes Or No**(2.5)**

1. All animals live on the trees.
2. We get wood from trees.
3. Cows use their tail for walking.
4. Dogs can walk, run and fly.
5. Birds can both fly and walk.

Q3. Choose the correct answer**(5)**

- a) It has feet and can crawl (Squirrel/ Cockroach)
- b) I have strong trunk (Trees/ Shrubs)
- c) Medicinal Plant (Peepul and Tulsi)
- d) Which is not required during photosynthesis process (Sunlight/ Oxygen)
- e) Wheat, Rice, Barley are (Medicine/ Food)

Q4. Question/ Answers**(6)**

1. Name the parts of a plant.

2. Name four animals which have four legs and a tail.

Section B (Understanding)

Q1. Name the animals:- (2)

a. Can fly _____, _____.

b. Can hop _____, _____.

Q2. Circle the Odd one. (4)

1. Caterpillar Ants Squirrel Lady Bug

2. Tulsi Rose Neem Mint

3. Buffalo Fish Frog Shark

4. Herbs Climbers Timber Creepers

Q3. M C Q's (3)

1. In India plants shed their leaves once in a year during _____

a) Winter b) Autumn c) Summer d) Rainy season

2. Which plant provides relief from fever, cold and cough?

a) Rose b) Tulsi c) Deodar d) Gulmohar

3. I weave a web on the walls

a) Cockroach b) Spider c) Owl d) Lizard

Q4. Very short Questions (3)

1. Name two herbs.

2. Name two creepers.

3. Name two Aquatic animals

Section – C (Application)

Q1. Find your correct answers in the given word grid**(5)**

1. A Pigeon could be seen on the _____.
2. Pumpkin is a _____.
3. I remain awake the whole night _____.
4. I can crawl _____.
5. A frog could be seen in the _____.

D	C	U	P	U	M	B	E	R
T	R	E	O	W	L	N	C	O
A	P	P	N	E	S	D	R	R
A	W	N	D	T	R	E	E	S
O	H	N	M	W	T	I	E	V
T	X	P	Y	Q	C	F	P	U
Q	Z	S	N	A	I	L	E	N
X	G	U	A	V	A	C	R	J

Q2. Short Questions**(5)**

1. How is Neem tree useful to us?
2. Why should not dried, fallen leaves be burnt?

Q3. Who am I?**(2)**

1. Slow and steady is my pace,
I always win when there is a race.
2. Banana is what I love eating,
I spend my time jumping and leaping.

Section – D (Analyse)

Q1. A plant cannot make food without Chlorophyll .Why?

(6)

Q2. Poonam saw different animals on the trees, in the pond and on the land. Can you name any two animals living

On the trees _____

In the pond _____

On the land _____

Section – E (Create)

Q1. Recall any of your visit to a grocery shop with your mother or any elder and list the things you purchased that were plant products.

(4)

੧. ਹੇਠ ਲਿਖੇ ਪ੍ਰਸ਼ਨਾਂ ਦੇ ਉੱਤਰ ਇੱਕ ਵਾਕ ਵਿੱਚ ਦਿਓ। (8)

੧. ਲੁਕਣ-ਮੀਚੀ ਖੇਡਣ ਲਈ ਕਿੰਨੇ ਕੁ ਬੱਚੇ ਚਾਹੀਦੇ ਹੁੰਦੇ ਹਨ ?

੨. ਬੱਚਿਆਂ ਨੂੰ ਪੜ੍ਹਾਈ ਦੇ ਨਾਲ-ਨਾਲ ਕਿਸ ਵਿੱਚ ਭਾਗ ਲੈਣਾ ਚਾਹੀਦਾ ਹੈ ?

੩. ਪਰੀ ਦੇ ਹੱਥ ਵਿੱਚ ਕੀ ਫੜਿਆ ਹੋਇਆ ਸੀ ?

੪. ਦਾਈ ਕਿਸ ਬੱਚੇ ਨੂੰ ਦੇਣੀ ਚਾਹੀਦੀ ਹੈ ?

੫. ਸੁਨਹਿਰੀ ਗੋਂਦ ਕਿੱਥੇ ਪਈ ਸੀ ?

੬. ਪਰੀ ਨੇ ਨੀਨਾ ਨੂੰ ਕੀ ਕਰਨ ਦੀ ਸਲਾਹ ਦਿੱਤੀ ?

੭. ਲੁਕਣ-ਮੀਚੀ ਖੇਡ ਤੋਂ ਬਿਨਾਂ ਕੋਈ ਦੋ ਦੋਸੀ ਖੇਡਾਂ ਦੇ ਨਾਂ ਲਿਖੋ?

੮. ਨੀਨਾ ਦੇ ਦੋਸਤ ਉਸ ਤੋਂ ਦੂਰ-ਦੂਰ ਕਿਉਂ ਭੱਜਦੇ ਸਨ ?

੨. ਹੇਠ ਲਿਖੇ ਪ੍ਰਸ਼ਨਾਂ ਦੇ ਉੱਤਰ ਦੋ -ਤਿੰਨ ਸਤਰਾਂ ਵਿੱਚ ਦਿਓ। (8)

੧. ਲੁਕਣ-ਮੀਚੀ ਖੇਡ ਅੱਜਕੱਲ੍ਹ ਕੀ ਹੋ ਰਹੀ ਹੈ ਅਤੇ ਕਿਉਂ ?

੨. ਨੀਨਾ ਨੇ ਸੁਨਹਿਰੀ ਗੋਂਦ ਕਿਵੇਂ ਪ੍ਰਾਪਤ ਕੀਤੀ ?

੩. ਬੱਚਿਆਂ ਲਈ ਲੁਕਣ-ਮੀਚੀ ਦੀ ਖੇਡ ਕਿਵੇਂ ਲਾਹੇਵੰਦ ਹੈ ?

੪. ਸੁਨਹਿਰੀ ਗੋਂਦ ਵਿਚੋਂ ਕੀ ਨਿਕਲਿਆ ਤੇ ਉਸਨੂੰ ਉਸ ਗੋਂਦ

ਵਿੱਚ ਕਿਸਨੇ ਬੰਦ ਕੀਤਾ ਸੀ ?

ਭਾਗ -ਅ (ਵਿਚਾਰਾਤਮਕ) (੧੦)

੧. ਅਣਡਿੱਠਾ ਪੈਰੂਾ ਪੜ੍ਹ ਕੇ ਪ੍ਰਸ਼ਨਾਂ ਦੇ ਉੱਤਰ ਦਿਓ। (5)

ਗੁਰੂ ਅੰਗਦ ਦੇਵ ਜੀ ਸਿੱਖਾਂ ਦੇ ਦੂਸਰੇ ਗੁਰੂ ਸਨ। ਉਹਨਾਂ ਦਾ ਜਨਮ 1504 ਈ: ਵਿੱਚ ਹੋਇਆ ਸੀ। ਆਪ ਜੀ ਦੇ ਪਿਤਾ ਦਾ ਨਾਂ ਫੇਰੂ ਮੱਲ ਅਤੇ ਮਾਤਾ ਜੀ ਦਾ ਨਾਂ ਮਾਤਾ ਦਇਆ ਕੌਰ ਸੀ। ਆਪ ਦੇ ਬਚਪਨ ਦਾ ਨਾਂ ਲਹਿਣਾ ਸੀ। ਆਪ ਜੀ ਬਚਪਨ ਤੋਂ ਹੀ

ਥਾਰਮਿਕ ਵਿਚਾਰਾਂ ਵਾਲੇ ਸਨ। ਇੱਕ ਵਾਰ ਆਪ ਜੀ ਦੀ ਮੁਲਾਕਾਤ ਭਾਈ ਜੋਥਾ ਜੀ ਨਾਲ ਹੋਈ ਜੋ ਕਿ ਗੁਰੂ ਨਾਨਕ ਦੇਵ ਜੀ ਦੇ ਪੱਕੇ ਸ਼ਰਧਾਲੂ ਸਨ। ਉਹਨਾਂ ਦੀ ਸੰਗਤ ਦਾ ਆਪ ਤੇ ਇਨ੍ਹਾਂ ਅਸਰ ਹੋਇਆ ਕਿ ਆਪ ਵੀ ਗੁਰੂ ਨਾਨਕ ਦੇਵ ਜੀ ਦੇ ਸ਼ਰਧਾਲੂ ਬਣ ਗਏ। ਜਦੋਂ ਆਪ ਜੀ ਦਾ ਗੁਰੂ ਜੀ ਨਾਲ ਮਿਲਾਪ ਹੋਇਆ ਤਾਂ ਉਸ ਤੋਂ ਬਾਅਦ ਆਪ ਗੁਰੂ ਦੇ ਪੱਕੇ ਸਿੱਖ ਬਣ ਗਏ ਅਤੇ ਉਹਨਾਂ ਕੋਲ ਹੀ ਰਹਿਣ ਲੱਗ ਪਏ। ਆਪ ਜੀ ਨੇ ਗੁਰੂ ਨਾਨਕ ਦੇਵ ਜੀ ਦੀ ਤਨ- ਮਨ ਨਾਲ ਸੇਵਾ ਕਰਨ ਲੱਗੇ।

੧. ਗੁਰੂ ਅੰਗਦ ਦੇਵ ਜੀ ਦਾ ਜਨਮ ਕਦੋਂ ਹੋਇਆ ਸੀ ?

੨. ਗੁਰੂ ਅੰਗਦ ਦੇਵ ਜੀ ਦੇ ਬਚਪਨ ਦਾ ਕੀ ਨਾਂ ਸੀ ?

੩. ਗੁਰੂ ਅੰਗਦ ਦੇਵ ਦੇ ਪਿਤਾ ਅਤੇ ਮਾਤਾ ਦਾ ਕੀ ਨਾਂ ਸੀ ?

੪. ਆਪ ਬਚਪਨ ਤੋਂ ਹੀ _____ ਵਿਚਾਰਾਂ ਵਾਲੇ ਸਨ।

੫. ਆਪ ਜੀ ਨੇ ਗੁਰੂ ਨਾਨਕ ਦੇਵ ਜੀ ਦੀ _____ ਨਾਲ ਸੇਵਾ ਕਰਨ ਲੱਗੇ।

੨. ਆਪਣੇ ਸਕੂਲ ਦੇ ਮੁੱਖ ਅਧਿਆਪਕਾ ਜੀ ਨੂੰ ਬਿਮਾਰੀ ਦੀ ਛੁੱਟੀ ਲਈ ਅਰਜ਼ੀ ਲਿਖੋ। (5)

ਭਾਗ -ੲ (ਪ੍ਰਯੋਗਾਤਮਕ) (੧੫)

੧. ਹੇਠ ਲਿਖੇ ਸ਼ਬਦਾਂ ਨੂੰ ਵਾਕਾਂ ਵਿੱਚ ਵਰਤੋ।

(੫)

(ੳ) ਹਰਮਨ-ਪਿਆਰੀ (ਅ) ਉਦਾਸ (ੲ) ਸੁਨਹਿਰੀ (ਸ) ਦਾਈ (ਹ) ਸ਼ਾਮ

੨. ਸਹੀ □ ਜਾਂ ਗਲਤ × ਦਾ ਨਿਸ਼ਾਨ ਲਗਾਓ।

(੫)

੧. ਲੁਕਣ-ਮੀਚੀ ਸਿਰਫ਼ ਓਮਪ; ਦੇ ਬੱਚੇ ਹੀ ਖੇਡਦੇ ਹਨ।

੨. ਬੱਚੇ ਅਕਸਰ ਗਰਮੀਆਂ ਦੀ ਸ਼ਾਮ ਨੂੰ ਸੰਧਿਆ ਵੇਲੇ ਲੁਕਣ-ਮੀਚੀ

ਖੇਡਦੇ ਸਨ।

੩. ਦਾਈ ਦੇਣ ਵਾਲਾ ਬੱਚਾ ਲੁਕ ਕੇ ਬੈਠ ਜਾਂਦਾ ਹੈ।

੪. ਸਾਨੂੰ ਦੇਸੀ ਖੇਡਾਂ ਨਹੀਂ ਖੇਡਣੀਆਂ ਚਾਹੀਦੀਆਂ ਹਨ।

੫. ਪੁੱਗਣ ਸਮੇਂ ਆਖਿਰ ਵਿੱਚ ਰਹਿਣ ਵਾਲੇ ਬੱਚੇ ਨੂੰ ਦਾਈ ਦੇਣੀ ਪੈਂਦੀ ਹੈ।

੩. ਹੇਠ ਲਿਖੇ ਪ੍ਰਸ਼ਨਾਂ ਦੇ ਉੱਤਰ ਦਿੱਤੇ ਗਏ ਵਿਕਲਪਾਂ ਵਿੱਚੋਂ ਚੁਣੋ।

(੫)

੧. ਲੁਕਣ-ਮੀਚੀ ਕਿੱਥੋਂ ਦੀ ਹਰਮਨ-ਪਿਆਰੀ ਖੇਡ ਹੈ।

ਜਪਾਨ ਦੀ ਪੰਜਾਬ ਦੀ ਇੰਗਲੈਂਡ ਦੀ

੨. ਨੀਨਾ ਕਿਹੋ ਜਿਹੀ ਬੱਚੀ ਸੀ।

(ੳ) ਪਿਆਰੀ (ਅ) ਭੱਦੀ (ੲ) ਜ਼ਿੱਦੀ

੩. ਨੀਨਾ ਹਰ ਰੋਜ਼ ਕੀ ਸਾਫ਼ ਨਹੀਂ ਕਰਦੀ ਸੀ।

(ੳ) ਵਾਲ (ਅ) ਕੰਨ (ੲ) ਦੰਦ

੫. ਲੁਕਣ-ਮੀਚੀ ਖੇਡਣ ਸਮੇਂ ਸਭ ਤੋਂ ਪਹਿਲਾ ਕੀ ਕੀਤਾ ਜਾਂਦਾ ਹੈ।

(ੳ) ਭੱਜਿਆ ਜਾਂਦਾ ਹੈ (ਅ) ਪੁਗਿਆ ਜਾਂਦਾ ਹੈ (ੲ) ਲੁਕਿਆ ਜਾਂਦਾ ਹੈ

ਭਾਗ -ਹ (ਮੁਲਾਂਕਣ) (5)

#. ਜੇਕਰ ਅਸੀਂ ਆਪਣੇ ਦੰਦਾਂ ਦੀ ਸਫ਼ਾਈ ਨਹੀਂ ਕਰਾਂਗੇ ਤਾਂ ਸਾਨੂੰ ਕਿਹੜੀਆਂ- ਕਿਹੜੀਆਂ ਪਰੇਸ਼ਾਨੀਆਂ ਦਾ ਸਾਹਮਣਾ ਕਰਨਾ ਪੈ ਸਕਦਾ ਹੈ ?

ਭਾਗ -ਸ (ਸਿਰਜਣਾਤਮਕ) (4)

੧. ਕੋਈ ਦੋ ਮਸ਼ੀਨੀ ਖੇਡਾਂ ਦੇ ਨਾਮ ਲਿਖਦੇ ਹੋਏ ਇਹਨਾਂ ਨਾਲ ਸਰੀਰ ਨੂੰ ਹੋਣ ਵਾਲੇ ਨੁਕਸਾਨਾਂ ਬਾਰੇ ਲਿਖੋ ?

प्र॒1 अ से अः तक स्वर लिखो ।

उ॒
.....

प्र॒2. खाली स्थान भरो ।

उ॒ अ इ उ) ऐ अं

प्र॒3. क से ✕ तक व्यंजन लिखो ।

उ॒
.....






प्र॒4. खाली स्थान भरो ।

उ॒ क घ घ छ ✕

प्र॒5. चित्रा पहचान कर सही अक्षर पर गोला लगाओ :

क.		इ	उ	ए
ख.		ऊ	ओ	ऐ
ग.		क	ज	घ
घ.		ग	ए	इ
घ		आ	ओ	ई

प्रÚ6. अक्षर को सही चित्रा से मिलान करो ।

क.		अं
ख.		ई
ग.		आ
घ.		क
घ		घ

प्रÚ7. चित्रा के नाम के पहले अक्षर को लिखो ।

क.	
ख.	
ग.	
घ.	
घ	

प्रÚ8. स्वरों को छांट कर उनसे चित्रा बनाओ ।

क	अ	ग	ओ	ज्ञ	ई	ऐ	ख

A. Fill in the blanks

(5)

1. The right side of the Taskbar contains _____
2. _____ scanners are used in a grocery store.
3. Ms Paint is an example of _____ software.
4. Start menu can also be opened by pressing _____ key on the keyboard.
5. _____ is a long horizontal bar at the bottom of Desktop.

B. State True or False

(5)

1. Icons on the desktop are used to open specific programs or documents.
2. There are six types of plotters.
3. Keyboard is used to provide data to the computer.
4. Recycle bin stores deleted files.
5. Background pictures are same on all desktop computers.

C. Multiple choice questions

(5)

1. _____ prints the best quality.
a. Inkjet printer b. Laser printer c. Dot matrix printer
2. _____ is also known as desktop background.
a. Wallpaper b. Taskbar c. Gadgets
3. Which of the following will you use to play a song?
a. Mouse b. Taskbar c. Speakers

4. To open a list of programs, the user should click on _____

- a. Recycle bin b. All programs c. Minimize button

5. Which of the following is a gadget?

- a. Icons b. Picture puzzle c. Wallpaper

D. Unscramble the jumbled letters to form names of devices. (5)

1. CSANRNE _____

2. GHTLI NPE _____

3. OTCHUSCEERN _____

4. RMOINTO _____

5. EBKYOARD _____

E. Answers the following questions. (10)

1. Write the three types of printers.

2. Write the two types of plotters.

3. Mohit is using computer for the first time. He cannot identify the small labeled pictures present on the screen. What are they called?

4. Mary is reading the soft copy of a letter. Which part of the computer is she using?

5. Sachin's mother has asked him to take out 50 copies of the birthday invitation letter. Which device should he use to get the hard copy?

6. Name a device which is used to type numbers, letters or words.

7. What are Gadgets?